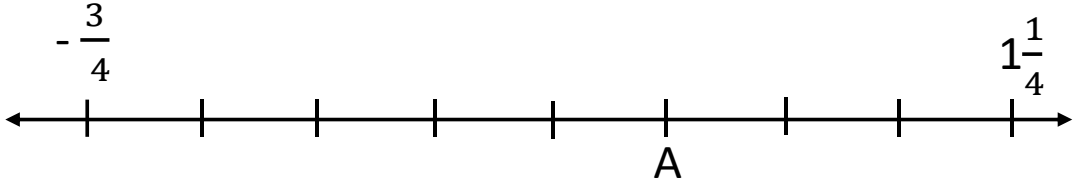


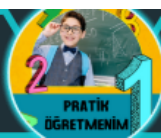


1.Aşağıda verilen sayı doğrusunda  $-\frac{3}{4}$  ile  $1\frac{1}{4}$  arası 8 eşit parçaya bölünmüştür.



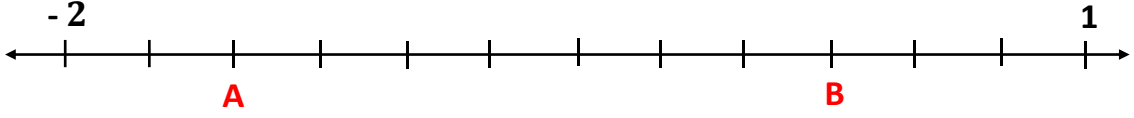
Buna göre A noktasına karşılık gelen rasyonel sayıyı bulunuz.

@pratikogretmenim





2.



Yukarıdaki sayı doğrusu eşit aralıklara ayrılmıştır. Buna göre  $A + B$  değeri kaçtır?

@pratiköğretmenim





3.Aşağıda verilen sayılardan kaç tanesi rasyonel sayı olup olmadığını inceleyiniz?

a)  $\frac{3}{4}$

b)  $-\frac{7}{6}$

c) 0

d) 5

e)  $1,\overline{33}$

f)  $\pi$

g)  $\sqrt{3}$





@pratiköğretmenim

