



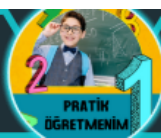
1.

| |
|---|
| A |
| B |
| C |

$$= A-B+C$$

Yukarda şekil içerisinde verilen ifadelerle yapılan işlemler gösterilmiştir. **Buna göre aşağıdaki işlemin sonucunu işlemlerinizi göstererek bulunuz.**

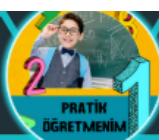
| |
|-------|
| $x-1$ |
| $x+2$ |
| $2x$ |





2. $(5x-2) - (x + 2) + (x - 1)$ işleminin sonucunu işlemlerinizi göstererek bulunuz.

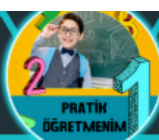
@pratikogretmenim





3. $(2a - b + 3) + 3 \cdot (b - a + 1)$ işleminin sonucunu işlemlerinizi göstererek bulunuz.

@pratikogretmenim





4.

| Meyveler | Kilogram Fiyatı (TL) |
|----------|----------------------|
| Muz | $2a-4$ |
| Portakal | $a + 10$ |

Yukarıda kilogram fiyatları verilen meyvelerden 4 şer kilogram alan Ceylan manava 100 TL vermiştir. Aldığı meyvelerin toplam fiyatı 100 TL'den düşük olduğuna göre Ceylan para üstü olarak ne kadar para alacağını cebirsel ifade ile gösteriniz.

